


**PAKA dla
BYSTRZAKA!**



MATEMATYKA MAŁEGO BYSTRZAKA

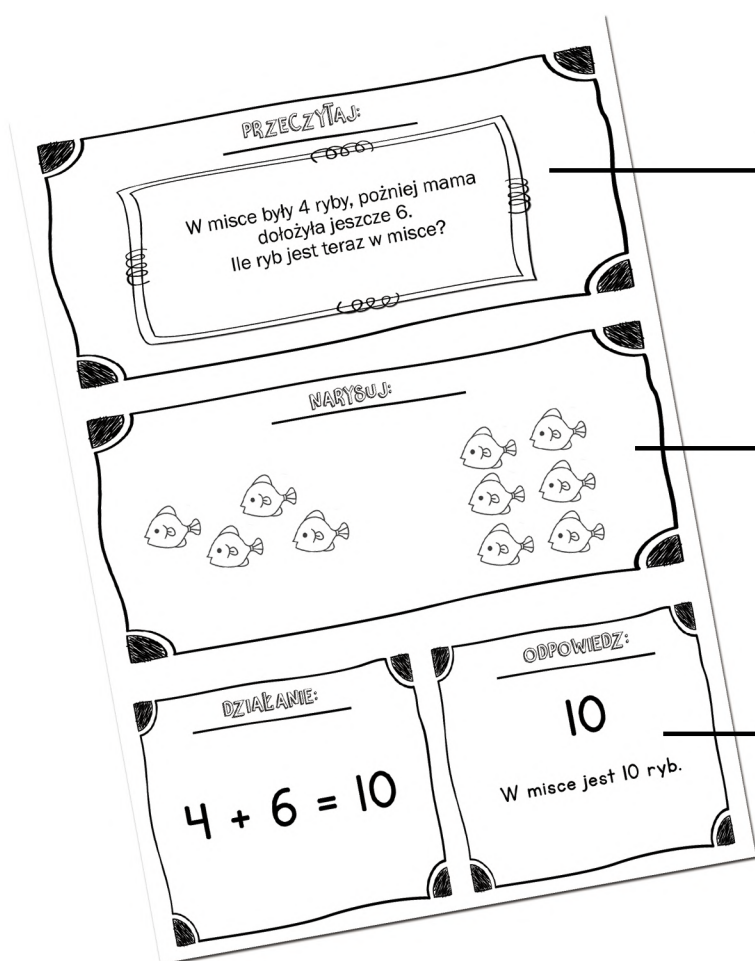


ZESTAW KART Z ZADANIAMI TEKSTOWYMI

DODAWANIE/ODEJMOWANIE/MNOŻENIE/DZIELENIE

PIERWSZE ZADANIA TEKSTOWE

Zbiór 80 zadań tekstowych z zakresu dodawania, odejmowania, mnożenia i dzielenia. Zadania obejmują programem klasy zerówkowe i wczesnoszkolne. Są to zadania proste zadania, które wspomagają naukę matematyki. Do zestawu dołączone są karty pracy ułatwiające rozwiązywanie zadań.



treść zadania tekstowego



wizualizacja problemu

rozwiązanie zadania

PRZECZYTAJ:

W misce były 4 ryby, później mama
dodała jeszcze 6.
Ile ryb jest teraz w misce?

NARYSUJ:



DZIAŁANIE:

$$4 + 6 = 10$$

ODPOWIEDZ:

10

W misce jest 10 ryb.

PRZECZYTAJ:

NARYSUJ:

ODPOWIEDZ:

PRZECZYTAJ:

NARYSUJ:

DZIAŁANIE:

ODPOWIEDZ:

PRZECZYTAJ:

NARYSUJ:

DZIAŁANIE:

$$\dots\dots\dots + \dots\dots\dots =$$

ODPOWIEDZ:

PRZECZYTAJ:

NARYSUJ:

DZIAŁANIE:

..... - =

ODPOWIEDZ:

PRZECZYTAJ:

NARYSUJ:

DZIAŁANIE:

..... : =

ODPOWIEDZ:

PRZECZYTAJ:

NARYSUJ:

DZIAŁANIE:

..... ° =

ODPOWIEDZ:



DODAWANIE

Mam dwa lizaki, które dostałam od mamy.
Później dostałam jeszcze dwa od taty.
Ile razem mam lizaków?

W misce były 4 ryby, później mama
dołożyła jeszcze 6.
Ile ryb jest teraz w misce?

Na drzewie rosły już 3 pomarańcze.
Za kilka dni urosły jeszcze
4. Ile jest pomarańczy na
drzewie?

Ania widziała 5 małych ptaszków.
Kasia widziała natomiast 2 małe ptaszki.
Ile ptaszków widziały
dziewczynki?

Na łące pały się 2 krówki. Później
gospodarz przyprowadził jeszcze 3.
Ile jest teraz krówek na łące?

W misce były 4 ryby, później mama
dołożyła jeszcze 6.
Ile ryb jest teraz w misce?

Dzisiaj na plaży Antoś wykopał
4 wielkie doły, a pies Antosia
wykopał 5. Ile dołów
wykopali razem?

Na kamieniu przy stawie siedzą
3 małe żabki. Nagle z wody wskoczyły
jeszcze 3. Ile teraz jest żabek
na kamieniu?

Krzyś ma 4 czerwone samochody
i 4 niebieskie samochody.
Ile Krzyś ma zabawek?

Rolnik miał 6 kur i 6 kaczek.
Ile zwierząt miał rolnik?

Ania miała 6 czerwonych koszulek.
Mama kupiła jej jeszcze 7
zielonych koszulek. Ile
ubrań ma teraz Ania?

Jeśli masz 8 czekoladowych
ciastek i 9 ciastek orzechowych, to
ile masz razem ciastek?

Adaś odbił piłkę 10 razy nogą
oraz 7 razy główką. Ile razy
Tomek odbił piłkę?

Zosia ma 3 różowe sukienki, 4
niebieskie sukienki i 5 czerwonych.
Ile sukienek ma Zosia?

Najpierw Igor odbił piłkę 10 razy,
później jeszcze 12 razy.
Ile razy Igor odbił piłkę?

Na torcie urodzinowym Ewy są
4 żółte świece, 3 czerwone
i 5 niebieskich. Ile lat
kończy Ewa?

W ulu było 20 pszczoł, rano przyleciały
jeszcze 4 pszczoły. Ile
jest pszczoł w ulu?

Kasia w poniedziałek upekła 20
babczek, w czwartek upiekła
jeszcze 6. Ile razem Kasia
upiekła babeczek?

Na półce z książkami jest 30
książek, wczoraj mama kupiła
jeszcze 5. Ile teraz jest
książek na półce?

Marysia razem z mamą upiekły
25 ciasteczek oraz 8 rogalików
na przyjęcie. Ile razem będzie
słodkości na przyjęciu?

W zoo jest 6 słońi, 8 żyraf,
9 małpek i 1 lew. Ile jest
zwierząt w zoo.

W moje urodziny dostałam 2 prezenty
od taty, 2 prezenty od mamy,
1 prezent od babci i 4 prezenty
od siostry. Ile mam prezentów?

Stolarz przybił 16 gwoździ rano oraz
17 gwoździ popołudniu. Ile
razem przybił gwoździ?

W sobotę w barze zostały sprzedane
22 hamburgery, w niedzielę natomiast
12. Ile hamburgerów zostało
sprzedanych przez weekend?



ODEJMOWANIE

Na drzewie było 6 ptaków.
Następnie 2 odleciały. Ile
ptaków jest teraz na drzewie?

Rano miałam 10 babeczek z truskawkami.
popołudniu 5 z nich dałam
koleżankom. Ile
teraz mam babeczek?

Ania zebrała w ogrodzie 8
róż. 3 róże dała babci. Ile
kwiatów ma teraz dziewczynka?

Było 10 kawałów pizzy. Jaś zjadł 4
kawałki. Ile kawałków pizzy
zostało dla taty?

Paweł miał 7 jabłek. Zjadł już 4 jabłka. Ile zostało mu owoców?

Na farmie było 10 owieczek. 4 owieczki uciekły. Ile owieczek jest teraz?

Miałam 7 bananów. 7 bananów dałam małpce Klarze. Ile mam teraz bananów?

W ogrodzie było 9 motylków. 4 motylki odleciały na łąkę. Ile jest teraz motylków.

Kasia ma 8 małych piesków.
4 pieski są w ogrodzie. Ile piesków
zostało w domu?

Mama upiekła 12 babeczek.
4 babeczki już udekorowała.
Ile babeczek jej zostało do
udekorowania?

Potrzebuję 10 balonów na przyjęcie.
Wczoraj nadmuchałam 6 balonów.
Ile muszę nadmuchać balonów
dzisiaj?

Jaś zebrał z ogródka 13 truskawek.
Zjadł już 5. Ile truskawek
zostało mu do zjedzenia?

Farmer miał 15 koni. 8 koni
sprzedał wczoraj na aukcji.
Ile teraz ma koni?

Listonosz miał 14 listów do
doręczenia. Doręczył już 7.
Ile listów mu jeszcze zostało?

Królik Biały miał 18 marchewek.
W poniedziałek zjadł 2, w czwartek
4 marchewki. Ile zostało mu
jeszcze marchewek do zjedzenia?

W misce było 16 śliwek. Mój brat zjadł
2, moja siostra 4 śliwki. Ile
śliwek zostało dla mnie?

Na krzaczku było 18 pomidorów,
Tata rano zerwał 9. Ile
pomidorów jest jeszcze na
krzaczku?

W paczce było 16 gum owocowych.
Kasia zjadła 3, Michał 4. Ile
jest jeszcze gum w paczce?

Marysia miała w piórniku 20
ołówków, ale tylko 8 było zastruganych.
Ile ołówków musi Marysia
jeszcze zastrugać?

W sklepie zoologicznym było 21
rybek. Dzisiaj rano przedano 9.
Ile rybek jest jeszcze w sklepie?

Ada ma 24 kartki do sklejenia.
Rano skleiała 3, wieczorem 9 kartek.
Ile Ada musi jeszcze skleić kartek?

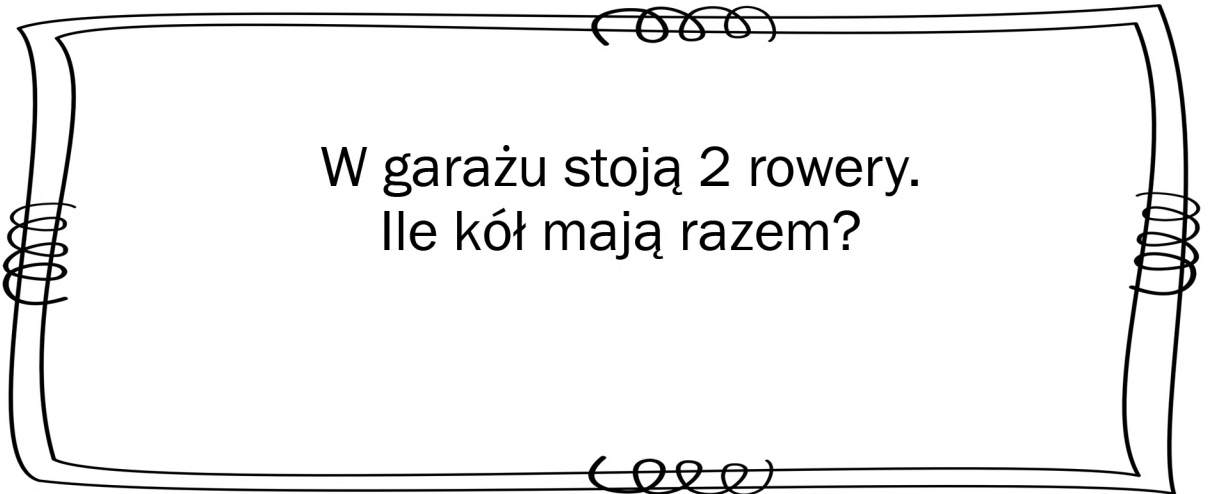
Na drzewie było 25 jabłek.
Rano spadło 8 jabłek. Ile
zostało jeszcze owoców na
drzewie?

Kasia miała w pojemniczku 19
muszelek. 7 muszelek
dała siostrze, 2 mamie.
Ile teraz ma Kasia muszelek?

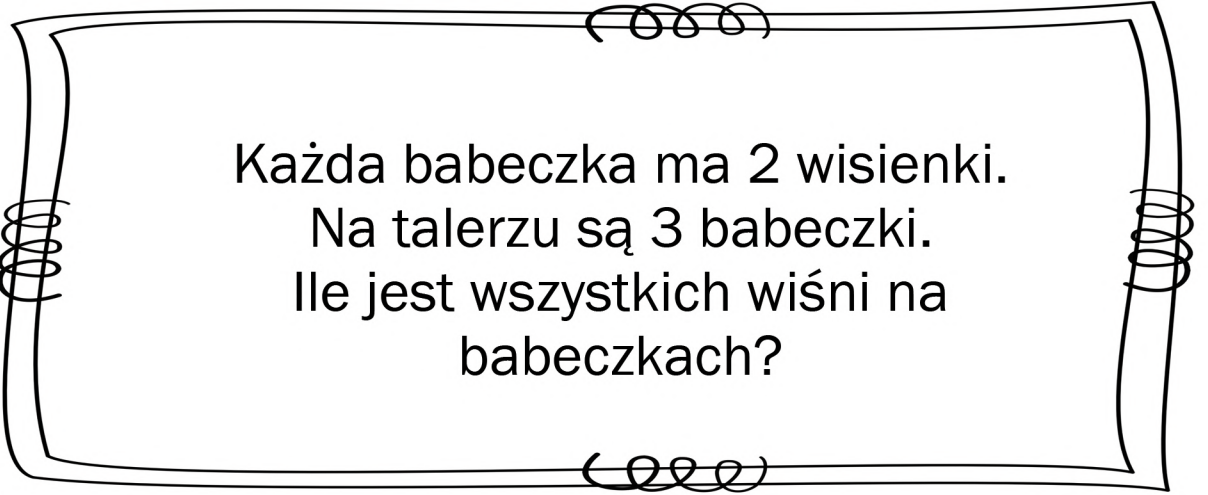
W sklepie było 18 lizaków owocowych.
9 lizaków kupił chłopiec, 6 lizaków
kupiała dziewczynka. Ile zostało
lizaków w sklepie?



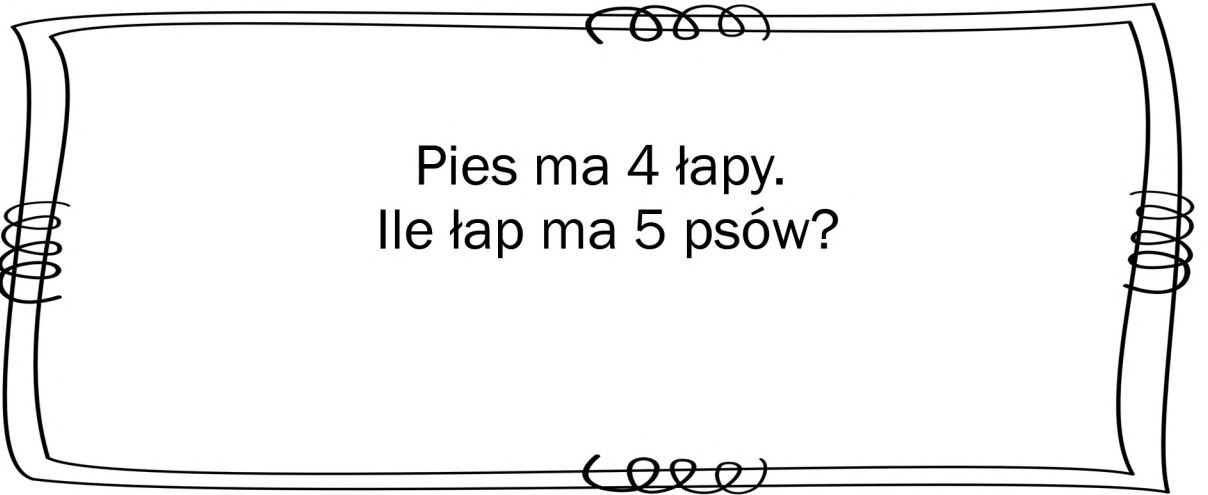
MNOŽENIE



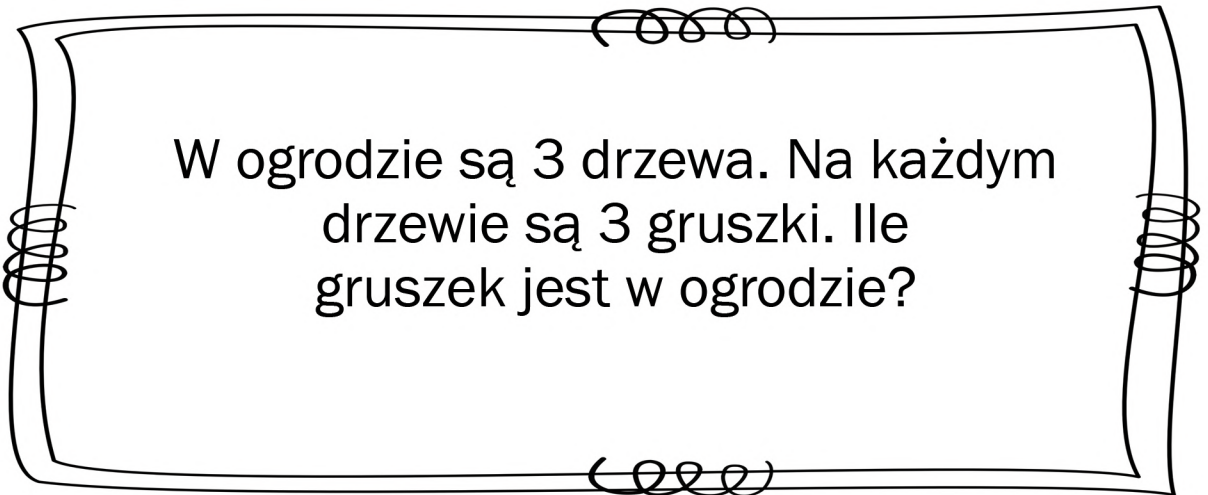
W garażu stoją 2 rowery.
Ile kół mają razem?



Każda babeczka ma 2 wisienki.
Na talerzu są 3 babeczki.
Ile jest wszystkich wiśni na
babeczkach?



Pies ma 4 łapy.
Ile łap ma 5 psów?



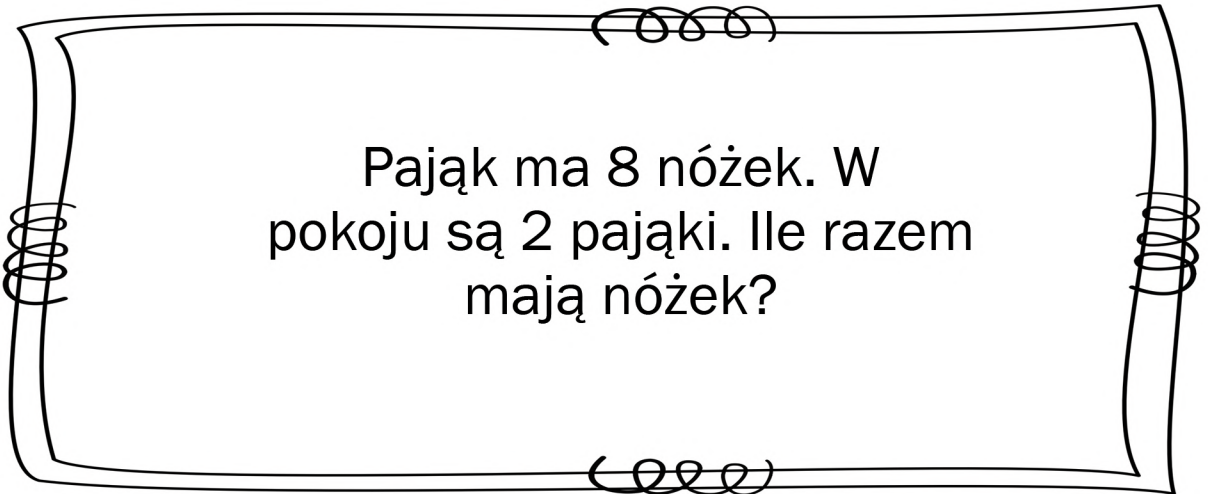
W ogrodzie są 3 drzewa. Na każdym
drzewie są 3 gruszki. Ile
gruszek jest w ogrodzie?

W pokoju są trzy pudełka.
W każdym pudełku jest 5 klocków.
Ile wszystkich klocków
jest w pokoju?

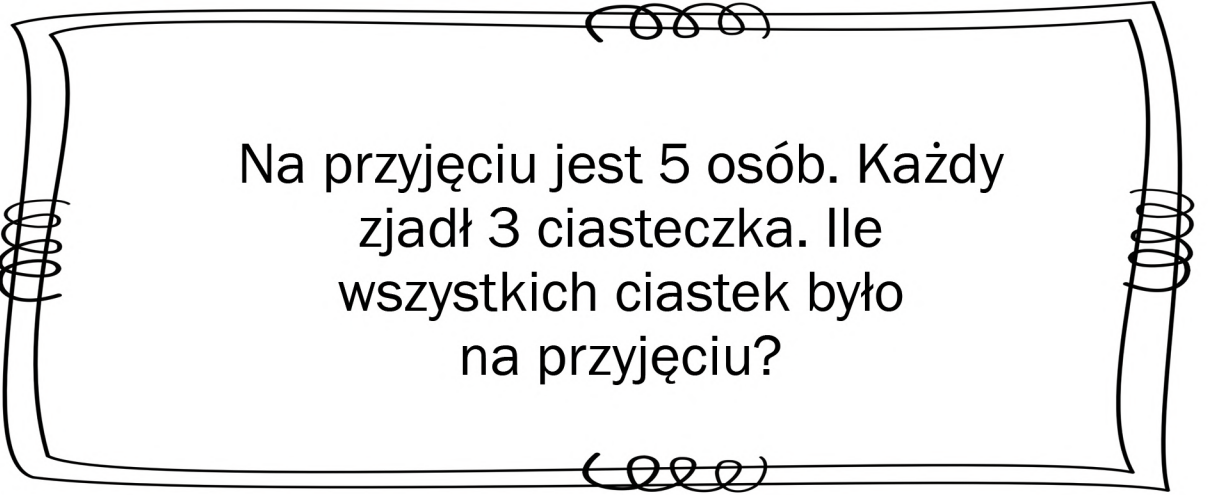
W pokoju są 4 miski. W każdej
misce są 4 brzoskwinie.
Ile jest wszystkich owoców?

W basenie są 3 ośmiornice. Każda
ośmiornica ma 8 macek.
Ile jest wszystkich macek?

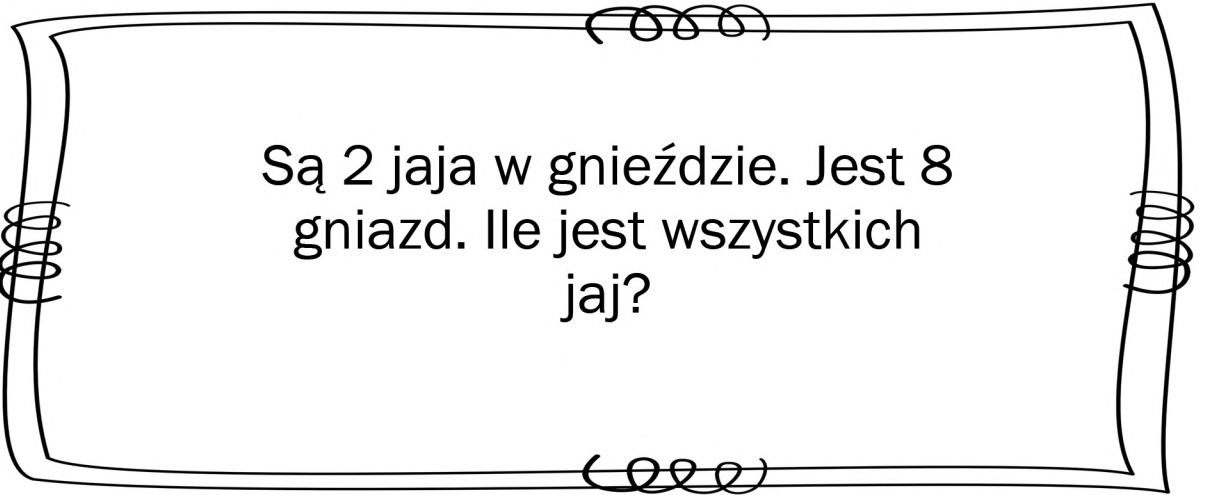
Wiewórka je 2 orzechy każdego
dnia. Ile orzechów zje
przez 5 dni?



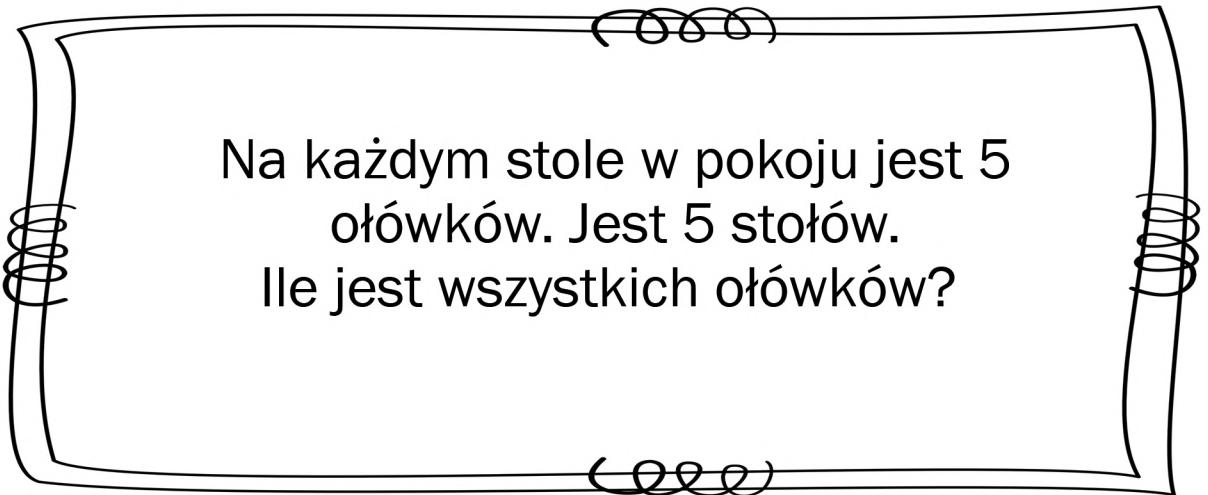
Pająk ma 8 nóg. W pokoju są 2 pająki. Ile razem mają nóg?



Na przyjęciu jest 5 osób. Każdy zjadł 3 ciasteczka. Ile wszystkich ciastek było na przyjęciu?



Są 2 jaja w gnieździe. Jest 8 gniazd. Ile jest wszystkich jaj?



Na każdym stole w pokoju jest 5 ołówków. Jest 5 stołów. Ile jest wszystkich ołówków?

Jem 4 brzoskwinie każdego dnia.
Ile brzoskwiń zjem przez
cały tydzień?

Kasia je dwa cukierki dziennie.
Ile cukierków zje przez
4 dni?

Koza ma dwa rogi. Na farmie jest
7 kóz. Ile razem mają
rogów wszystkie kozy?

W sklepie jest 7 koszyczków.
W każdym są 3 rogaliki. Ile
jest rogalików w sklepie?



DZIELENIE

Zosia i Marysia miały razem
4 banany. Jeśli podziela je
równy ile bananów
dostaną.

Mam 6 kwiatów, które muszę równy
podzielić między dwoma doniczkami.
Ile kwiatów będzie
w każdej doniczce.

Na farmie są 3 świnki. Mam 9 jabłek.
Po ile jabłek muszę dać każdej
świnie, aby każda dostała
tyle samo?

Mam 6 cukierków, które muszę
rozdzielić równy między Jasiem
i Antosiem. Po ile cukierków
muszę dać?

Ewa ma 10 sukienek, które musi równo podzielić do 2 walizek. Ile sukienek będzie w każdej walizce?

Adam ma 15 kwiatów, które ma podzielić równo do 3 wazonów. Po ile kwiatków powinien wsadzić do każdego wazonu?

Tomek ma 14 czekoladek. Chce je podzielić równo do dwóch torebek. Po ile czekoladek musi włożyć do każdej torebki?

Robot ma do wykonania 20 zadań. Chce pracować tylko 4 dni. Ile dziennie musi wykonać zadań?

Mam 30 rybek, które muszę równo podzielić do 3 akwarium. Ile rybek będzie w każdym akwarium?

Na boisku jest 28 piłkarzy. Mają być oni podzieleni równo na 4 zespoły. Po ilu zawodników będzie w każdym zespole?

Jajka są pakowane po 6 sztuk. Ile potrzeba pudełek na 36 sztuk jajek?

Każda klasa w szkole potrzebuje 10 klejów. W szkole jest 50 sztuk. Na ile klas szkolnych można je podzielić?

Ania ma 19 znaczków. Aby wysłać list potrzebuje 2 znaczki. Ile listów Ania może wysłać?

Pani Kasia ma 13 naklejek, które chce równo rozdzielić między 6 uczniów. Ile naklejek dostanie każdy uczeń? Ile naklejek zostanie?

Sylwia ma 18 książek i 4 półki, Na każdej półce zmieszczą się tylko 4 książki. Ile książek zostanie nie położonych?

Adrian ma 22 kartony mleka. Musi dostarczyć po 2 kartony do każdego sklepu. Musi odwiedzić 10 domów. Ile kartonów mleka mu zostanie?

PRZECZYTAJ:

Kasia je dwa cukierki dziennie.
Ile cukierków zje przez
4 dni?

NARYSUJ:

DZIAŁANIE:

ODPOWIEDZ:

PRZECZYTAJ:

Na drzewie rosły już 3 pomarańcze.
Za kilka dni urosły jeszcze
4. Ile jest pomarańczy na
drzewie?

NARYSUJ:

DZIAŁANIE:

ODPOWIEDZ:

PRZECZYTAJ:

W misce były 4 ryby, później mama
dołożyła jeszcze 6.
Ile ryb jest teraz w misce?

NARYSUJ:

DZIAŁANIE:

ODPOWIEDZ:

PRZECZYTAJ:

Mam dwa lizaki, które dostałam od mamy.
Później dostałam jeszcze dwa od taty.
Ile razem mam lizaków?

NARYSUJ:

DZIAŁANIE:

ODPOWIEDZ:

PRZECZYTAJ:

Na kamieniu przy stawie siedzą
3 małe żabki. Nagle z wody wskoczyły
jeszcze 3. Ile teraz jest żabek
na kamieniu?

NARYSUJ:

DZIAŁANIE:

ODPOWIEDZ:

PRZECZYTAJ:

Dzisiaj na plaży Antoś wykopał
4 wielkie doły, a pies Antosia
wykopał 5. Ile dołów
wykopali razem?

NARYSUJ:

DZIAŁANIE:

ODPOWIEDZ:

PRZECZYTAJ:

W misce były 4 ryby, później mama
dołożyła jeszcze 6.
Ile ryb jest teraz w misce?

NARYSUJ:

DZIAŁANIE:

ODPOWIEDZ:

PRZECZYTAJ:

Na łące pasły się 2 krówki. Później
gospodarz przyprowadził jeszcze 3.
Ile jest teraz krówek na łące?

NARYSUJ:

DZIAŁANIE:

ODPOWIEDZ:

PRZECZYTAJ:

Jeśli masz 8 czekoladowych
ciastek i 9 ciastek orzechowych, to
ile masz razem ciastek?

NARYSUJ:

DZIAŁANIE:

ODPOWIEDZ:

PRZECZYTAJ:

Ania miała 6 czerwonych koszulek.
Mama kupiła jej jeszcze 7
zielonych koszulek. Ile
ubrań ma teraz Ania?

NARYSUJ:

DZIAŁANIE:

ODPOWIEDZ:

PRZECZYTAJ:

Rolnik miał 6 kur i 6 kaczek.
Ile zwierząt miał rolnik?

NARYSUJ:

DZIAŁANIE:

ODPOWIEDZ:

PRZECZYTAJ:

Krzyś ma 4 czerwone samochody
i 4 niebieskie samochody.
Ile Krzyś ma zabawek?

NARYSUJ:

DZIAŁANIE:

ODPOWIEDZ:

PRZECZYTAJ:

Na torcie urodzinowym Ewy są
4 żółte świece, 3 czerwone
i 5 niebieskich. Ile lat
kończy Ewa?

NARYSUJ:

DZIAŁANIE:

ODPOWIEDZ:

PRZECZYTAJ:

Najpierw Igor odbił piłkę 10 razy,
później jeszcze 12 razy.
Ile razy Igor odbił piłkę?

NARYSUJ:

DZIAŁANIE:

ODPOWIEDZ:

PRZECZYTAJ:

Zosia ma 3 różowe sukienki, 4
niebieskie sukienki i 5 czerwonych.
Ile sukienek ma Zosia?

NARYSUJ:

DZIAŁANIE:

ODPOWIEDZ:

PRZECZYTAJ:

Adaś odbił piłkę 10 razy nogą
oraz 7 razy główką. Ile razy
Tomek odbił piłkę?

NARYSUJ:

DZIAŁANIE:

ODPOWIEDZ:

PRZECZYTAJ:

Marysia razem z mamą upiekły
25 ciasteczek oraz 8 rogalików
na przyjęcie. Ile razem będzie
słodkości na przyjęciu?

NARYSUJ:

DZIAŁANIE:

ODPOWIEDZ:

PRZECZYTAJ:

Na półce z książkami jest 30
książek, wczoraj mama kupiła
jeszcze 5. Ile teraz jest
książek na półce?

NARYSUJ:

DZIAŁANIE:

ODPOWIEDZ:

PRZECZYTAJ:

Kasia w poniedziałek upiekła 20
babczek, w czwartek upiekła
jeszcze 6. Ile razem Kasia
upiekła babeczek?

NARYSUJ:

DZIAŁANIE:

ODPOWIEDZ:

PRZECZYTAJ:

W ulu było 20 pszczoł, rano przyleciały
jeszcze 4 pszczoły. Ile
jest pszczoł w ulu?

NARYSUJ:

DZIAŁANIE:

ODPOWIEDZ:

PRZECZYTAJ:

W sobotę w barze zostały sprzedane
22 hamburgery, w niedzielę natomiast
12. Ile hamburgerów zostało
sprzedanych przez weekend?

NARYSUJ:

DZIAŁANIE:

ODPOWIEDZ:

PRZECZYTAJ:

Stolarz przybił 16 gwoździ rano oraz
17 gwoździ popołudniu. Ile
razem przybił gwoździ?

NARYSUJ:

DZIAŁANIE:

ODPOWIEDZ:

PRZECZYTAJ:

W moje urodziny dostałam 2 prezenty
od taty, 2 prezenty od mamy,
1 prezent od babci i 4 prezenty
od siostry. Ile mam prezentów?

NARYSUJ:

DZIAŁANIE:

ODPOWIEDZ:

PRZECZYTAJ:

W zoo jest 6 słońi, 8 żyraf,
9 małpek i 1 lew. Ile jest
zwierząt w zoo.

NARYSUJ:

DZIAŁANIE:

ODPOWIEDZ:

PRZECZYTAJ:

Było 10 kawałów pizzy. Jaś zjadł 4
kawałki. Ile kawałków pizzy
zostało dla taty?

NARYSUJ:

DZIAŁANIE:

ODPOWIEDZ:

PRZECZYTAJ:

Ania zebrała w ogrodzie 8
róż. 3 róże dała babci. Ile
kwiatów ma teraz dziewczynka?

NARYSUJ:

DZIAŁANIE:

ODPOWIEDZ:

PRZECZYTAJ:

Rano miałam 10 babeczek z truskawkami.
popołudniu 5 z nich dałam
koleżankom. Ile
teraz mam babeczek?

NARYSUJ:

DZIAŁANIE:

ODPOWIEDZ:

PRZECZYTAJ:

Na drzewie było 6 ptaków.
Następnie 2 odleciały. Ile
ptaków jest teraz na drzewie?

NARYSUJ:

DZIAŁANIE:

ODPOWIEDZ:

PRZECZYTAJ:

W ogrodzie było 9 motylków.
4 motylki odleciały na łąkę.
Ile jest teraz motylków.

NARYSUJ:

DZIAŁANIE:

ODPOWIEDZ:

PRZECZYTAJ:

Miałam 7 bananów. 7 bananów
dałam małpce Klarze. Ile
mam teraz bananów?

NARYSUJ:

DZIAŁANIE:

ODPOWIEDZ:

PRZECZYTAJ:

Na farmie było 10 owieczek.
4 owieczki uciekły. Ile
owieczek jest teraz?

NARYSUJ:

DZIAŁANIE:

ODPOWIEDZ:

PRZECZYTAJ:

Paweł miał 7 jabłek. Zjadł już 4 jabłka. Ile zostało mu owoców?

NARYSUJ:

DZIAŁANIE:

ODPOWIEDZ:

PRZECZYTAJ:

Jaś zebrał z ogródka 13 truskawek.
Zjadł już 5. Ile truskawek
zostało mu do zjedzenia?

NARYSUJ:

DZIAŁANIE:

ODPOWIEDZ:

PRZECZYTAJ:

Potrzebuję 10 balonów na przyjęcie.
Wczoraj nadmuchałam 6 balonów.
Ile muszę nadmuchać balonów
dzisiaj?

NARYSUJ:

DZIAŁANIE:

ODPOWIEDZ:

PRZECZYTAJ:

Mama upiekła 12 babeczek.
4 babeczki już udekorowała.
Ile babeczek jej zostało do
udekorowania?

NARYSUJ:

DZIAŁANIE:

ODPOWIEDZ:

PRZECZYTAJ:

Kasia ma 8 małych piesków.
4 pieski są w ogrodzie. Ile piesków
zostało w domu?

NARYSUJ:

DZIAŁANIE:

ODPOWIEDZ:

PRZECZYTAJ:

W misce było 16 śliwek. Mój brat zjadł 2, moja siostra 4 śliwki. Ile śliwek zostało dla mnie?

NARYSUJ:

DZIAŁANIE:

ODPOWIEDZ:

PRZECZYTAJ:

Królik Biały miał 18 marchewek.
W poniedziałek zjadł 2, w czwartek
4 marchewki. Ile zostało mu
jeszcze marchewek do zjedzenia?

NARYSUJ:

DZIAŁANIE:

ODPOWIEDZ:

PRZECZYTAJ:

Listonosz miał 14 listów do
doreczenia. Doręczył już 7.
Ile listów mu jeszcze został?

NARYSUJ:

DZIAŁANIE:

ODPOWIEDZ:

PRZECZYTAJ:

Farmer miał 15 koni. 8 koni
sprzedał wczoraj na aukcji.
Ile teraz ma koni?

NARYSUJ:

DZIAŁANIE:

ODPOWIEDZ:

PRZECZYTAJ:

W sklepie zoologicznym było 21 rybek. Dzisiaj rano przedano 9. Ile rybek jest jeszcze w sklepie?

NARYSUJ:

DZIAŁANIE:

ODPOWIEDZ:

PRZECZYTAJ:

Marysia miała w piórniku 20
ołówków, ale tylko 8 było zastruganych.
Ile ołówków musi Marysia
jeszcze zastrugać?

NARYSUJ:

DZIAŁANIE:

ODPOWIEDZ:

PRZECZYTAJ:

W paczce było 16 gum owocowych.
Kasia zjadła 3, Michał 4. Ile
jest jeszcze gum w paczce?

NARYSUJ:

DZIAŁANIE:

ODPOWIEDZ:

PRZECZYTAJ:

Na krzaczku było 18 pomidorów,
Tata rano zerwał 9. Ile
pomidorów jest jeszcze na
krzaczku?

NARYSUJ:

DZIAŁANIE:

ODPOWIEDZ:

PRZECZYTAJ:

W sklepie było 18 lizaków owocowych.
9 lizaków kupił chłopiec, 6 lizaków
kupiła dziewczynka. Ile zostało
lizaków w sklepie?

NARYSUJ:

DZIAŁANIE:

ODPOWIEDZ:

PRZECZYTAJ:

Kasia miała w pojemniczku 19
muszelek. 7 muszelek
dała siostrze, 2 mamie.
Ile teraz ma Kasia muszelek?

NARYSUJ:

DZIAŁANIE:

ODPOWIEDZ:

PRZECZYTAJ:

Na drzewie było 25 jabłek.
Rano spadło 8 jabłek. Ile
zostało jeszcze owoców na
drzewie?

NARYSuj:

DZIAŁANIE:

ODPOWIEDZ:

PRZECZYTAJ:

Ada ma 24 kartki do sklejenia.
Rano skleila 3, wieczorem 9 kartek.
Ile Ada musi jeszcze skleic kartek?

NARYSUJ:

DZIAŁANIE:

ODPOWIEDZ:

PRZECZYTAJ:

W ogrodzie są 3 drzewa. Na każdym drzewie są 3 gruszki. Ile gruszek jest w ogrodzie?

NARYSUJ:

DZIAŁANIE:

ODPOWIEDZ:

PRZECZYTAJ:

Pies ma 4 łapy.
Ile łap ma 5 psów?

NARYSUJ:

DZIAŁANIE:

ODPOWIEDZ:

PRZECZYTAJ:

Każda babeczka ma 2 wisienki.
Na talerzu są 3 babeczki.
Ile jest wszystkich wiśni na
babeczkach?

NARYSUJ:

DZIAŁANIE:

ODPOWIEDZ:

PRZECZYTAJ:

W garażu stoją 2 rowery.
Ile kół mają razem?

NARYSUJ:

DZIAŁANIE:

ODPOWIEDZ:

PRZECZYTAJ:

Wiewórka je 2 orzechy każdego dnia. Ile orzechów zje przez 5 dni?

NARYSUJ:

DZIAŁANIE:

ODPOWIEDZ:

PRZECZYTAJ:

W basenie są 3 ośmiornice. Każda
ośmiornica ma 8 macek.
Ile jest wszystkich macek?

NARYSUJ:

DZIAŁANIE:

ODPOWIEDZ:

PRZECZYTAJ:

W pokoju są 4 miski. W każdej misce są 4 brzoskwinie.
Ile jest wszystkich owoców?

NARYSUJ:

DZIAŁANIE:

ODPOWIEDZ:

PRZECZYTAJ:

W pokoju są trzy pudełka.
W każdym pudełku jest 5 klocków.
Ile wszystkich klocków
jest w pokoju?

NARYSUJ:

DZIAŁANIE:

ODPOWIEDZ:

PRZECZYTAJ:

Na każdym stole w pokoju jest 5
ołówków. Jest 5 stołów.
Ile jest wszystkich ołówków?

NARYSUJ:

DZIAŁANIE:

ODPOWIEDZ:

PRZECZYTAJ:

Są 2 jaja w gnieździe. Jest 8
gniazd. Ile jest wszystkich
jaj?

NARYSUJ:

DZIAŁANIE:

ODPOWIEDZ:

PRZECZYTAJ:

Na przyjęciu jest 5 osób. Każdy zjadł 3 ciasteczka. Ile wszystkich ciastek było na przyjęciu?

NARYSUJ:

DZIAŁANIE:

ODPOWIEDZ:

PRZECZYTAJ:

Pająk ma 8 nóg. W pokoju są 2 pająki. Ile razem mają nóg?

NARYSUJ:

DZIAŁANIE:

ODPOWIEDZ:

PRZECZYTAJ:

W sklepie jest 7 koszyzków.
W każdym są 3 rogaliki. Ile
jest rogalików w sklepie?

NARYSUJ:

DZIAŁANIE:

ODPOWIEDZ:

PRZECZYTAJ:

Koza ma dwa rogi. Na farmie jest
7 kóz. Ile razem mają
rogów wszystkie kozy?

NARYSUJ:

DZIAŁANIE:

ODPOWIEDZ:

PRZECZYTAJ:

Kasia je dwa cukierki dziennie.
Ile cukierków zje przez
4 dni?

NARYSUJ:

DZIAŁANIE:

ODPOWIEDZ:

PRZECZYTAJ:

Jem 4 brzoskwinie każdego dnia.
Ile brzoskwiń zjem przez
cały tydzień?

NARYSUJ:

DZIAŁANIE:

ODPOWIEDZ:

PRZECZYTAJ:

Mam 6 cukierków, które muszę
rozdzielić równo między Jasiem
i Antosiem. Po ile cukierków
muszę dać?

NARYSUJ:

DZIAŁANIE:

ODPOWIEDZ:

PRZECZYTAJ:

Na farmie są 3 świnki. Mam 9 jabłek.
Po ile jabłek muszę dać każdej
świnie, aby każda dostała
tyle samo?

NARYSUJ:

DZIAŁANIE:

ODPOWIEDZ:

PRZECZYTAJ:

Mam 6 kwiatów, które muszą równo
podzielić między dwoma doniczkami.
Ile kwiatów będzie
w każdej doniczce.

NARYSUJ:

DZIAŁANIE:

ODPOWIEDZ:

PRZECZYTAJ:

Zosia i Marysia miały razem
4 banany. Jeśli podzielą je
równy ile bananów
dostaną.

NARYSUJ:

DZIAŁANIE:

ODPOWIEDZ:

PRZECZYTAJ:

Robot ma do wykonania 20 zadań.
Chce pracować tylko 4 dni. Ile
dziennie musi wykonać zadań?

NARYSUJ:

DZIAŁANIE:

ODPOWIEDZ:

PRZECZYTAJ:

Tomek ma 14 czekoladek. Chce je
podzielić równo do dwóch torebek.
Po ile czekoladek musi włożyć
do każdej torebki?

NARYSUJ:

DZIAŁANIE:

ODPOWIEDZ:

PRZECZYTAJ:

Ewa ma 10 sukienek, które
musi równo podzielić do
2 walizek. Ile sukienek będzie
w każdej walizce?

NARYSUJ:

DZIAŁANIE:

ODPOWIEDZ:

PRZECZYTAJ:

Adam ma 15 kwiatów, które
ma podzielić równo do
3 wazonów. Po ile kwiatków
powinien wsadzić do każdego
wazonu?

NARYSUJ:

DZIAŁANIE:

ODPOWIEDZ:

PRZECZYTAJ:

Każda klasa w szkole potrzebuje 10
klejów. W szkole jest 50 sztuk.
Na ile klas szkolnych można je
podzielić?

NARYSUJ:

DZIAŁANIE:

ODPOWIEDZ:

PRZECZYTAJ:

Jajka są pakowane po 6 sztuk.
Ile potrzeba pudełek na
36 sztuk jajek?

NARYSUJ:

DZIAŁANIE:

ODPOWIEDZ:

PRZECZYTAJ:

Na boisku jest 28 piłkarzy. Mają być oni podzieleni równo na 4 zespoły.

Po ilu zawodników będzie w każdym zespole?

NARYSUJ:

DZIAŁANIE:

ODPOWIEDZ:

PRZECZYTAJ:

Mam 30 rybek, które muszę równo
podzielić do 3 akwarium. Ile
rybek będzie w każdym
akwarium?

NARYSUJ:

DZIAŁANIE:

ODPOWIEDZ:

PRZECZYTAJ:

Adrian ma 22 kartony mleka. Musi dostarczyć po 2 kartony do każdego sklepu. Musi odwiedzić 10 domów. Ile kartonów mleka mu zostanie?

NARYSUJ:

DZIAŁANIE:

ODPOWIEDZ:

PRZECZYTAJ:

Sylwia ma 18 książek i 4 półki,
Na każdej półce zmieszczą się tylko
4 książki. Ile książek
zostanie nie położonych?

NARYSuj:

DZIAŁANIE:

ODPOWIEDZ:

PRZECZYTAJ:

Pani Kasia ma 13 naklejek, które chce równo rozdzielić między 6 uczniów. Ile naklejek dostanie każdy uczeń? Ile naklejek zostanie?

NARYSUJ:

DZIAŁANIE:

ODPOWIEDZ:

PRZECZYTAJ:

Ania ma 19 znaczków. Aby
wysłać list potrzebuje 2 znaczki.
Ile listów Ania może wysłać?

NARYSUJ:

DZIAŁANIE:

ODPOWIEDZ:



Paka dla Bystrzaka - „Matematyka małego Bystrzaka”

Zestaw kart pracy z serii „Paka dla Bystrzaka”, które

- wspomagają wprowadzenie zadań tekstowych
- wspomagają naukę matematyki w zakresie edukacji wczesnoszkolnej
- wspomagają uczniów w nauce
- bawią oraz uczą

PAKA dla BYSTRZAKA 

- Chcesz poznać nasze inne produkty z serii „Paki dla Bystrzaka”?
- Chcesz mieć innowacyjne materiały dydaktyczne?
- Chcesz pobierać darmowe materiały, które wykorzystasz w szkole?
- A może chcesz mieć wyjątkowe maty suchościernalne, zapakowane w podręczne pudełko, które od razu wykorzystasz do pracy z dziećmi.
- Być może jednak, wolisz samemu decydować z jakimi kartami pracy, będziesz pracować. Pobierz materiały PDF.



znajdziesz nas na:

www.facebook.com/mistrzowskadydaktyka

Kup na:

www.facebook.com/pg/mistrzowskadydaktyka/shop

www.pakadlabystrzaka.eu

ISBN 978-83-68248-31-9



9 788368 248319